

mathbuch 1 | LU15 | Arbeitsheft+ | weitere Aufgaben «Grundanforderungen»

Wertetabellen

301 A Höhe von Blattstapeln

Anzahl Blätter	500	2 000	12 500	75 000	_____	_____	x
Höhe [cm]	7,5	_____	_____	_____	300	_____	x · _____

B Stundenlohn

Zeit [h]	1 h	12 h	20 h	36 h	_____	_____	x
Lohn [CHF]	13.50	_____	_____	_____	540	2700	x · _____

C In 18 min kommt man über Land mit dem Auto 20 km weit.

Zeit [h]	4,5	_____	_____	_____	90	_____	x
Strecke [km]	_____	10	50	80	_____	_____	x · _____

D In 2 h kommt man mit dem Velo 48 km weit.

Zeit [h]	0,25	0,5	0,75	1	1,5	_____	x
Strecke [km]	_____	_____	_____	_____	_____	_____	x · _____

E Der Massstab einer Landkarte ist 1:50 000

Strecke auf der Karte [cm]	0,1	10	_____	_____	_____	_____	x
Strecke in Wirklichkeit [km]	_____	_____	10	20	25	_____	x · _____

F Der Massstab einer Landkarte ist 1:25 000

Strecke auf der Karte [cm]	1	2	_____	12	_____	_____	x
Strecke in Wirklichkeit [km]	_____	_____	1,5	_____	5	_____	x · _____

G Der Massstab einer Landkarte ist 1:100 000

Strecke auf der Karte [cm]	_____	_____	12	15	_____	_____	x
Strecke in Wirklichkeit [km]	1	10	_____	_____	20	_____	x · _____

H Ein Igel macht im Winterschlaf etwa 5 Atemzüge pro Minute.

Zeit	2 min	$\frac{1}{2}$ h	2 h	2 Tage	2 Wochen	_____	x min
Anzahl Atemzüge	_____	_____	_____	_____	_____	_____	x · _____

mathbuch 1 || LU15 || Arbeitsheft+ || weitere Aufgaben «Grundanforderungen»

I Ein wacher Igel macht etwa 600 Atemzüge pro halbe Stunde.

Zeit	1 min	5 min	3 h	2 Tage	2 Wochen	_____	x min
Anzahl Atemzüge	_____	_____	_____	_____	_____	_____	x · _____

J Ein erwachsener Mensch macht etwa 20 Atemzüge pro Minute.

Zeit	15 s	30 s	5 min	1 h	2 Tage	_____	x min
Anzahl Atemzüge	_____	_____	_____	_____	_____	_____	x · _____

302 Robert, Lukas und Regula benötigen für Sandwiches 1,300 kg Senf. Eine Tube zu 250 g kostet 1.80 Fr. Jeder berechnet die Kosten für 1,300 kg auf einem eigenen Weg:

Robert	
Menge [g]	Wert [CHF]
250	1.80
500	_____
50	_____
100	_____
300	_____
1300	_____

Lukas	
Menge [g]	Wert [CHF]
250	1.80
500	_____
50	_____
1250	_____
1300	_____

Regula	
Menge [g]	Wert [CHF]
250	1.80
1250	_____
50	_____
1300	_____

Ergänze die Tabellen. Wie rechnest du?

## mathbuch 1 :: LU15 :: Arbeitsheft+ :: weitere Aufgaben «Grundanforderungen»

## Sachsituationen

303 A 15 l Rahm werden in Becher zu 2 dl abgefüllt. Reichen 80 Becher?

ja  nein

B Für einen 85 kg schweren Emmentaler Käselaib braucht der Käser 1 000 l Milch. Ergeben 20 000 l Milch mehr oder weniger als 1 500 kg Käse?

mehr  weniger

C Jede Schachtel wird mit 16 Pralinen gefüllt. Reichen 4 500 Pralinen für 300 Schachteln?

ja  nein

D Ein Bäcker braucht für 10 Butterzöpfe 8,5 kg Mehl. Braucht es für 30 Butterzöpfe mehr oder weniger als 20 kg Mehl?

mehr  weniger

E Ein Küchenboden mit einer Länge von 4 m und einer Breite von 2 m wird mit Platten der Grösse 20 cm x 40 cm belegt. Reichen 120 Platten?

ja  nein

F Tiefgekühlte Erbsen werden in Beutel zu 400 g verpackt. Braucht es für 120 kg Erbsen mehr oder weniger als 350 Beutel?

mehr  weniger

G Ein Kaffeehändler rechnet damit, dass er an einem Tag etwa 40 Beutel zu 250 g und 80 Beutel zu 500 g verkaufen kann. Reichen dafür 2 Säcke à 30 kg?

ja  nein

mathbuch 1 :: LU15 :: Arbeitsheft+ :: weitere Aufgaben «Grundanforderungen»

**Fremdwahrung****304** Stell Dir aufgrund dieser Tabelle eigene Aufgaben und lose sie.

CHANGE		
	Ankauf	Verkauf
Euro	1.2135	1.2455
Amerikanische Dollar	0.9265	0.9575
Kanadische Dollar	0.9055	0.9285
Britische Pfund	1.401	1.448
Schwedische Kronen	14.5	15
Danische Kronen	16.2	16.8
Norwegische Kronen	16.25	16.8
Japanische Yen	0.9955	1.0235
Australische Dollar	0.9535	0.9825

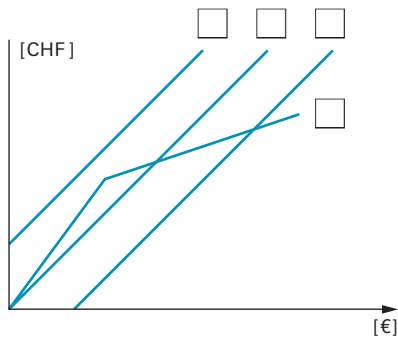
**305 A** Du wechselst dreissig 2-Franken-Stucke in 10-Rappen-Stucke.  
Wie viele 10-Rappen-Stucke erhaltst du?**B** Du wechselst funf 5-Franken-Stucke in 5-Rappen-Stucke.  
Wie viele 5-Rappen-Stucke erhaltst du?**C** Eurogeld gibt es in Munzen und Noten. Munzen zu 1, 2, 5, 10, 20, 50 Cent und zu 1 und 2 Euro.  
Noten zu 5, 10, 20, 50, 100, 200, 500 Euro.  
Wie viele CHF sind die einzelnen EUR-Banknoten wert? Rechne mit dem aktuellen Tageskurs.**D** 100 Euro kosten etwa 130 Schweizer Franken.  
Wie viele Euro bekommt man etwa fur 100 Schweizer Franken?

mathbuch 1 :: LU15 :: Arbeitsheft+ :: weitere Aufgaben «Grundanforderungen»

**E** 100 000 Yen kosten etwa 75 Euro.  
Wie viele Yen bekommt man für 100 000 Euro?

**F** 1 Goldvreneli kostet etwa 295 CHF.  
Wie viele CHF bekommt man für 295 Goldvreneli?

**306** Eine Bank wechselt CHF in EUR.  
Welcher Graph steht für welche Situation?



- A** Die Bank verlangt eine Grundgebühr.
- B** Die Bank verlangt keine Grundgebühr.
- C** Die Bank schenkt jedem Wechselnden 3 Euro.
- D** Ab einem bestimmten Wechselbetrag wird ein günstigerer Kurs benutzt.

mathbuch 1 || LU15 || Arbeitsheft+ || weitere Aufgaben «Grundanforderungen»

Ferienjob

307 Vier Situationen werden jeweils als Tabelle, als Graph und als Gleichung beschrieben. Was gehört zusammen? Entscheide jeweils, ob es sich um eine proportionale Zuordnung handelt.

	Tabelle Nr.	Gleichung Nr.	Graph Nr.	Proportional?
<b>Situation 1</b> Es werden immer 10 h gearbeitet. Wie gross ist der Verdienst bei unterschiedlichem Stundenlohn?	_____	_____	_____	<input type="checkbox"/> ja <input type="checkbox"/> nein
<b>Situation 2</b> Es wird zu einem Stundenlohn von 12 CHF/h gearbeitet. Wie gross ist der Verdienst bei unterschiedlichen Arbeitszeiten?	_____	_____	_____	<input type="checkbox"/> ja <input type="checkbox"/> nein
<b>Situation 3</b> Es werden immer 100 CHF verdient. Wie lang ist die Arbeitszeit bei unterschiedlichem Stundenlohn?	_____	_____	_____	<input type="checkbox"/> ja <input type="checkbox"/> nein
<b>Situation 4</b> Bei einem Ferienjob sind die ersten 5 h Probezeit ohne Lohn. Danach wird zu einem Stundenlohn von 18 CHF/h gearbeitet. Wie gross ist der Verdienst bei unterschiedlichen Arbeitszeiten?	_____	_____	_____	<input type="checkbox"/> ja <input type="checkbox"/> nein

**Tabelle 1**

CHF/h	1.00	12.00	22.50	30.00
CHF	10.00	120.00	225.00	300.00

**Tabelle 2**

h	5	15	22	30
CHF	0.00	180.00	306.00	450.00

**Tabelle 3**

h	2.5	8	20	25
CHF/h	40.00	12.50	5.00	4.00

**Tabelle 4**

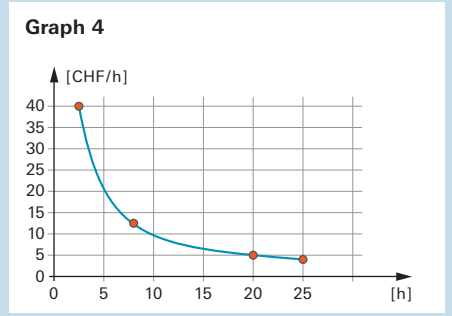
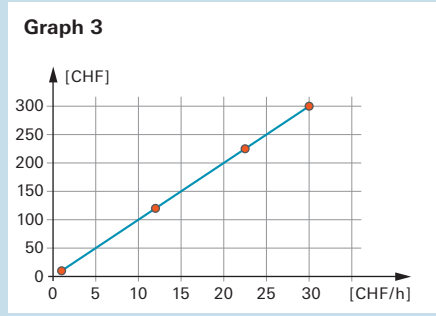
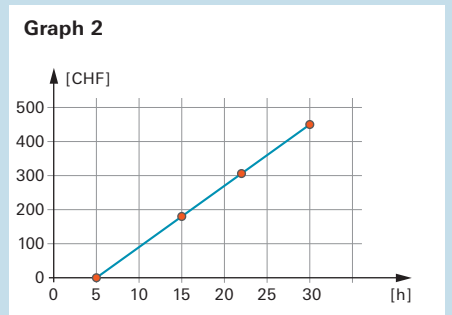
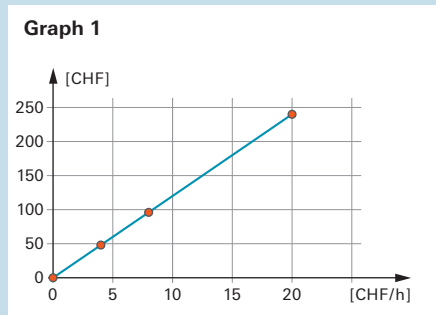
h	0	4	8	20
CHF	0.00	48.00	96.00	240.00

**Gleichung 1**  
 $y = 10 \cdot x$

**Gleichung 2**  
 $y = 100 : x$

**Gleichung 3**  
 $y = 12 \cdot x$

**Gleichung 4**  
 $y = 18 \cdot (x - 5)$  oder  $x = 0$

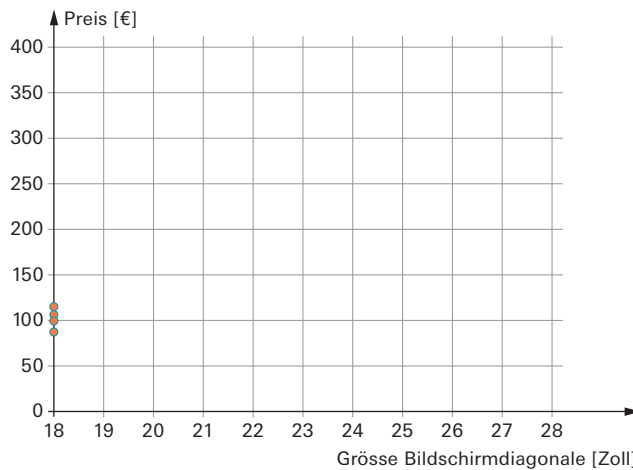


**Computerbildschirm kaufen**

**308** In einem Internetvergleich wurden die Preise für Computerbildschirme verglichen und in einer Tabelle dargestellt. Die Angaben zu den Grössen von Computerbildschirmen beziehen sich auf die Bildschirmdiagonale in Zoll (1 Zoll = ca. 2,6 cm). 1 Zoll wird auch als 1" geschrieben.

Zoll	Preis in Euro			
	Anbieter 1	Anbieter 2	Anbieter 3	Anbieter 4
18,5	99	115	106	87
19	110	124	121	104
20	119	129	–	–
21,5	153	150	136	127
22	140	233	153	176
23	172	145	170	250
24	199	217	248	165
26	283	299	295	–
27	303	320	345	279
28	280	345	–	–

**A** Trage die Preise in das Koordinatensystem ein. Die Preise für 18,5-Zoll-Bildschirme sind schon eingetragen.



**B** Was kannst du über den Zusammenhang «Preis – Grösse der Bildschirmdiagonale» aus der grafischen Darstellung herauslesen?

---



---



---

mathbuch 1 :: LU15 :: Arbeitsheft+ :: weitere Aufgaben «Grundanforderungen»

**Benzin und Heizöl**

**309** Berechne den fehlenden Wert der Benzinkosten.

**A**

CHF	19.93
l	10,60
CHF/l	_____

**B**

CHF	83.54
l	_____
CHF/l	1.84

**C**

CHF	_____
l	42,50
CHF/l	1.92

**310** In der Tabelle siehst du das jeweilige Monatsmittel des Heizölpreises in CHF pro 100 Liter. Formuliere zu dieser Tabelle eigene Fragen und löse sie.

Monat	3 000–6 000 l	6 001–9 000 l	9 001–14 000 l	14 001–20 000 l	über 20 000 l
September 2012	107.49	106.42	105.30	104.69	104.02
August 2012	105.22	104.21	103.06	102.28	101.78
Juli 2012	98.45	97.31	96.18	95.33	94.72
Juni 2012	98.03	96.86	95.83	94.63	94.12
Mai 2012	103.69	102.33	101.30	100.30	99.74
April 2012	105.78	104.63	103.61	102.59	101.98
März 2012	108.05	106.89	105.88	104.97	104.36
Februar 2012	105.36	104.22	103.17	102.07	101.52
Januar 2012	103.92	102.79	101.78	100.82	100.21
Dezember 2011	104.53	103.25	102.24	101.09	100.48
November 2011	102.96	101.81	100.79	99.78	99.21
Oktober 2011	97.20	96.11	95.10	94.09	93.55

Quelle: Bundesamt für Statistik (Landesindex der Konsumentenpreise)

---



---



---



---



---



---