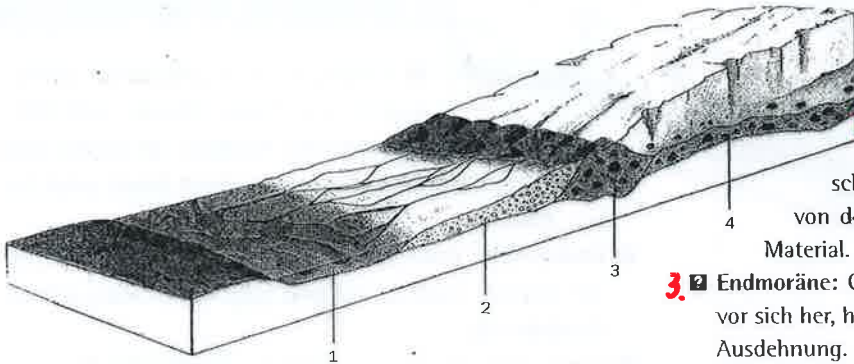



## Reliefformen der Erde 2.KSS

Lies die Doppelseite im Geobuch 1 S. 52/53. Ordne anschliessend den Begriffen die richtigen Nummern zu.



1 Landschaft während der Vergletscherung

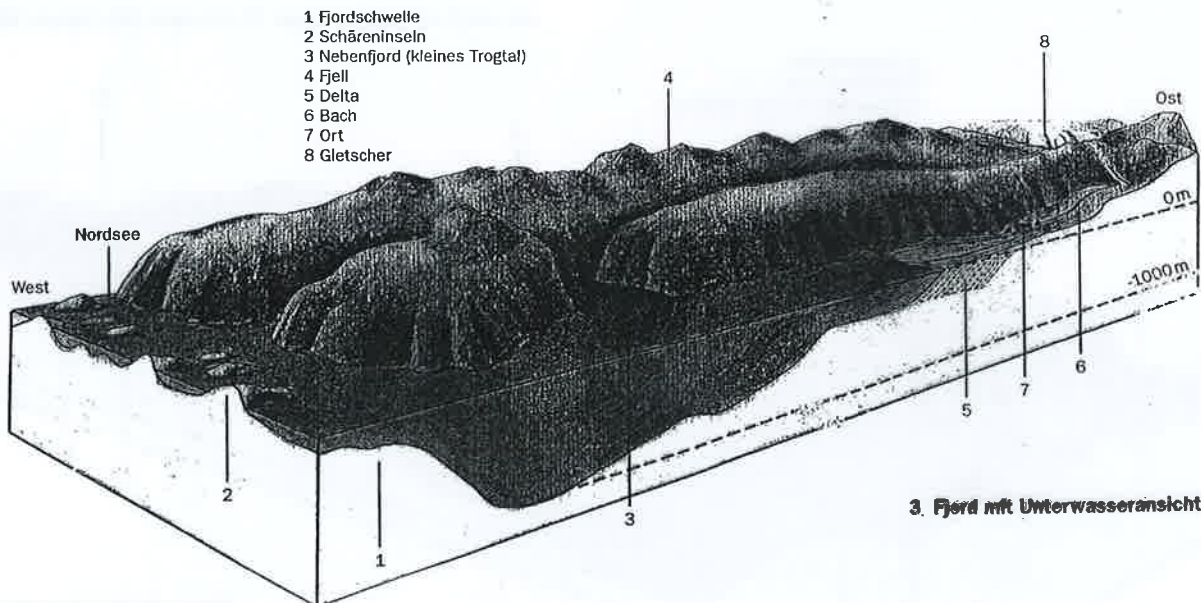
Ordne die Begriffe den Nummern in den Blockbildern zu.



2 Nacheiszeitliche Moränenlandschaft

- 2. Sander: Von Gletscherbächen durchzogene, fast flache Ebene; vom Gletscher zerriebenes Material. Je weiter weg von der Gletscherzunge, desto feiner wird das Material.
- 3. Endmoräne: Gletscher schiebt ausgehobeltes Material vor sich her, häuft es auf und zeigt damit seine grösste Ausdehnung.
- 4. Urstromtal: Es sammelt die Schmelzwasserbäche.
- 4. Grundmoräne: Durch die Gletscherbewegung aus dem Untergrund gelöstes und zum Teil weit transportiertes Material.

- 2. Schotterfeld: Vom Gletscher abgelagerter Sand und Kies, heute oft leicht bewaldet; wenig Landwirtschaft.
- 4. Mäandrierender Fluss: Fluss fliesst wegen des geringen Gefälles in Schlaufen; Grünlandwirtschaft.
- 3. Reste der Endmoräne: Hügelkette aus Geschieben, die der Gletscher beim Abschmelzen zurückliess.
- 4. Zungenbeckensee: Hinter der Endmoräne bilden sich kleine Seen, da das abschmelzende Wasser weder abfließen noch versickern kann. Es können sich Moore bilden.



3. Fjord mit Unterwasseransicht